



Denkathlon[®] - Visio

Gehirntraining für zwischendurch

8 Aufgaben

für die Bearbeitung am Bildschirm

Video 017

Übungen in diesem Video:

Auf?RÄUMEN!-RA*

Reihen?FOLGE!*

Kalkulus?VERSTECKT*

Leisten?VERS!*¹



¹ Übungsbeschreibung
auf www.denkathlon.de
Unterseite Videos rot+blau

*

mit Lösungen



Übung: Kalkulus? VERSTECKT!



Gleich siehst Du eine **Landschaft**. In ihr sind 7 Elemente einer Rechenaufgabe versteckt, Zahlen, Rechenzeichen und Klammern (), dazu das Ergebnis - das ist die Zahl mit einem Gleichheitszeichen davor.

Finde die 7 Elemente und das Ergebnis und bilde die Rechenaufgabe!

Finde 7 Elemente und das Ergebnis.



Lösung

$$30 : (9 - 4) = 6$$





Übung: Kalkulus?VERSTECKT!



Gleich siehst Du eine Szene auf einem **Bauernhof**. In ihr sind **7** Elemente einer Rechenaufgabe versteckt, Zahlen und Rechenzeichen, dazu das Ergebnis - das ist die Zahl mit einem Gleichheitszeichen davor.

Finde die 7 Elemente und das Ergebnis und bilde die Rechenaufgabe!

Finde 7 Elemente und das Ergebnis.

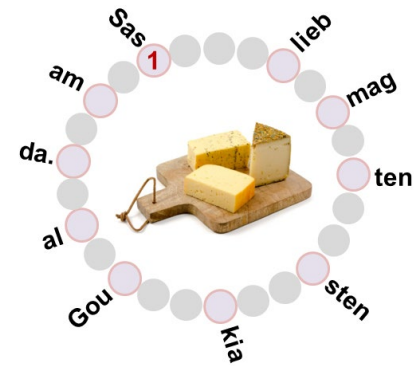


Lösung

$$4 \times 6 - 8 : 2 = 20$$





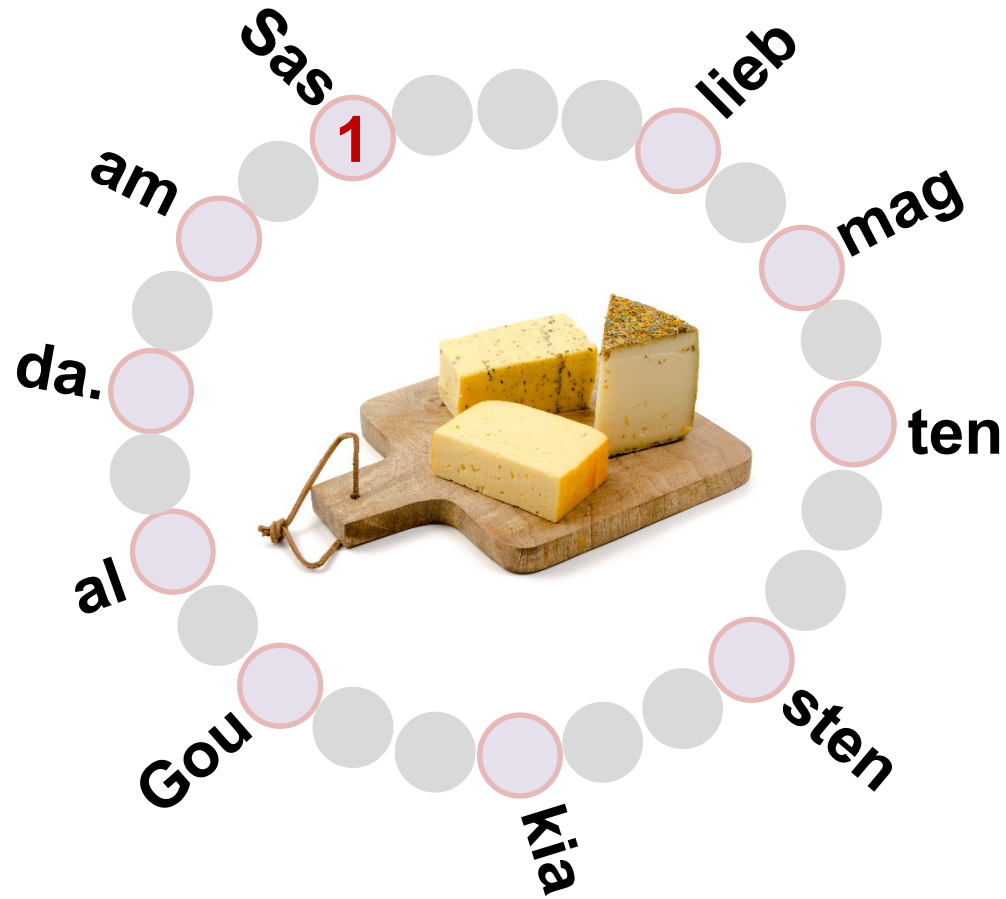


Deine Aufgabe:

*Finde den im folgenden Bild
dargestellten Satz.*

*Die Zahl **1** kennzeichnet den
Beginn des Satzes.*

Übung: Reihen?FOLGE!

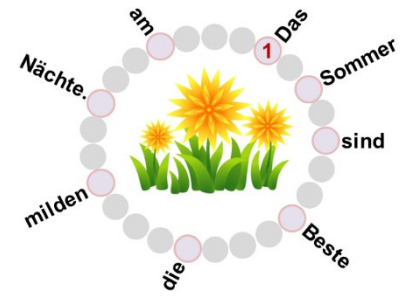


Übung: Reihen?FOLGE!

Saskia mag am liebsten alten Gouda.








Deine Aufgabe:

*Finde den im folgenden Bild
dargestellten Satz.*

*Die Zahl **1** kennzeichnet den
Beginn des Satzes.*


Übung: Reihen?FOLGE!



5 Sekunden


bis zur

Lösung



Übung: Reihen?FOLGE!

Das Beste am Sommer sind die milden Nächte.





Übung: Auf?RÄUMEN! - RA

Deine Aufgabe:

Räume die folgende Rechenaufgabe auf, einschließlich ihres Ergebnisses:

(0 → 9)

$$56 + 25 = ?$$

„Aufräumen“ heißt, die Ziffern zu ordnen, aufwärts von 0 → 9 oder abwärts von 9 → 0.

Es ruft der Chor der Jung-Neuronen: „Gib uns zu tun, es wird sich lohnen!“

Übung: Auf?RÄUMEN! - RA

Deine Aufgabe:

*Räume die folgende Rechenaufgabe auf,
einschließlich ihres Ergebnisses:*

(0 → 9)

$$56 + 25 = ?$$

Übung: Auf?RÄUMEN! - RA

Lösung

Deine Aufgabe:

*Räume die folgende Rechenaufgabe auf,
einschließlich*

125568

es:

(0 → 9)

$$56 + 25 = 81$$



Aufgabe 6

Übung: Auf?RÄUMEN! - RA

Deine Aufgabe:

*Räume die folgende Rechenaufgabe auf,
einschließlich ihres Ergebnisses:*

(0 → 9)

$$37 + 24 + 5 = ?$$

Es ruft der Chor der Jung-Neuronen: „Gib uns zu tun, es wird sich lohnen!“

Übung: Auf?RÄUMEN! - RA

Lösung

Deine Aufgabe:

*Räume die folgende Rechenaufgabe auf,
einschließ*

2345667

s:

(0 → 9)

$$37 + 24 + 5 = 66$$



Übung: Leisten?VERS!

Deine Aufgabe:

*Bilde einen Satz, bei dem die Anfangsbuchstaben seiner Wörter das Wort **NEST** bilden.*

So einen Satz nennt man Leistenvers.

Übung: Leisten?VERS!

Eine Lösung

Bilde einen Satz, bei dem die Anfangsbuchstaben seiner Wörter das Wort NEST bilden.

So ein **N**orbert **e**rlebt *vers.*
seinen **T**raum.



Übung: Leisten?VERS!

Deine Aufgabe:

*Bilde einen Satz, bei dem die Anfangsbuchstaben seiner Wörter das Wort **FERIEN** bilden.*

So einen Satz nennt man Leistenvers.

Übung: Leisten?VERS!

Eine Lösung

Bilde einen Satz, bei dem die Anfangsbuchstaben seiner Wörter

Frisch **e**ingesammelte
Radieschen **i**nteressieren
Emma **n**icht.